

58E SCHOOLVERKEERSEXAMEN

CURACAO, BONAIRE, ST. MAARTEN, SABA EN ST. EUSTATIUS

3 JUNI 2009



TA DESEÁ TUR ALUMNO HOPI ÉKSITO

WENST ALLE LEERLINGEN VEEL SUCCES

WISH MUCH SUCCESS TO ALL STUDENTS

VERKEERSEXAMEN 2009

Vul alleen maar één woord in.

- 1 Verkeer kunnen wij in drie groepen verdelen: verkeer te water, verkeer door de lucht en verkeer te.....
- 2 Zodra je op de bent, behoort je tot het verkeer.
- 3 Als er geen trottoir of berm is, is het verstandig dat een voetganger aan de..... van de weg loopt.
- 4 “Mag hier niet borden” hebben een vorm en een rode rand.

Vul in goed of fout.

- 5 Haaiantanden, verkeerslichten en stopstrepen behoren tot de actieve taal van de weg. _____
- 6 Fietsers mogen met zijn drieën naast elkaar fietsen. _____
- 7 Overdag moet een fiets een goed werkende rem hebben. _____
- 8 Een fietser moet altijd voorrang geven aan de andere weggebruikers.

9 Welke zin past niet in het rijtje ?

- A Politie agent die het verkeer regelt.
- B Verkeersbrigadier die de kinderen veilig laat oversteken.
- C Een fietser die met zijn arm de richting aangeeft.
- D Een voorrangsbord.

Zin _____ past niet in het rijtje.

10 Welk bord is een “moet hier bord “ ?



Bord A



Bord B




Bord C

Bord _____ is een “moet hier bord”.


11 Welke borden werken samen ?




Bord 1



Bord 2



Bord 3



Bord 4

Bord nummer..... en bord nummer..... werken samen.

12 Teken alleen de vorm van een bord dat je vertelt dat er een hospitaal in de buurt is.

Een van de antwoorden zijn goed.

13 Verkeersborden worden in :

- A Vijf groepen verdeeld.
- B Drie groepen verdeeld.
- C Zeven groepen verdeeld.

- 14 Zijn fietsers die gebruik maken van de weg verplicht om rechts te fietsen ?
- A Nee, fietsers zijn niet verplicht om rechts te fietsen.
 - B Fietsers zijn verplicht om rechts te fietsen.
 - C Fietsers mogen zowel rechts en links van de weg fietsen.
- 15 Motorvoertuigen, niet motorvoertuigen en voetgangers behoren tot:
- A De Actieve taal van de weg.
 - B Het verkeer te land.
 - C Hoofddregel van het verkeer.
- 16 Weggebruikers die we in het verkeer kunnen tegenkomen zijn bijv:
- A Ruiters, wandelaars, fietsers en automobilisten.
 - B Fietsers, een moeder met een kinderwagen, vliegtuigen en treinen.
 - C Ruiters, voetgangers, wandelaars en zeilschepen.
- 17 Een fietser mag niets op de fiets meenemen die breder is dan:
- A 75 meter.
 - B 75 millimeter.
 - C 75 centimeter.
- 18 Waarom is het altijd verstandig om autogordel te dragen ?
- A Om ongelukken te voorkomen en voor de veiligheid van anderen.
 - B Voor de veiligheid van de andere weggebruikers en passagiers.
 - C Om niet uit de auto of tegen de voorruit geslingerd te worden.

Kijk goed naar de foto

Dit is een T-kruising van zandweg.

De fietser en de automobilist willen links af slaan

- 19 Wie gaat het eerst ?:
- A De fietser.
 - B De automobilist.
 - C Zowel de fietser als de automobilist.

20 Altijd als je naar links af slaat moet de bocht:

- A Zo klein mogelijk zijn.
- B Zo recht mogelijk zijn.
- C Zo groot mogelijk zijn.

