


63E SCHOOLVERKEERSEXAMEN

CURACAO, ST. MAARTEN, BONAIRE ,ST. EUSTATIUS EN SABA

3 JUNI 2015



SAMEN MET DE JEUGD NAAR EEN VEILGER VERKEER.

1. Tot het landverkeer behoren:
 - a. Motorvoertuigen, niet motorvoertuigen en vaartuigen.
 - b. Motorvoertuigen, niet motorvoertuigen en vliegtuigen.
 - c. Motorvoertuigen, niet motorvoertuigen en voetgangers.

2. Hoe luid de hoofdregel van het verkeer?
De hoofdregel van het verkeer:

3. Wat moet een piloot hebben om een vliegtuig te kunnen besturen?
 - a. Een rijbewijs.
 - b. Een vliegbrevet.
 - c. Een vluchtplan.



4. Wie mogen van de rijweg gebruik maken?
 - a. Alle weggebruikers.
 - b. Alle motorvoertuigen en invalidewagens.
 - c. Alle voertuigen en rijdieren.

5. Het verkeer te land verdelen we in:
 - a. Landverkeer, verkeer te water en luchtverkeer.
 - b. Motorvoertuigen, niet motorvoertuigen en voetgangers.


6. Giovanni gaat te voet naar de supermarkt. Aan beide kanten van de weg is er een trottoir. Is Giovanni verplicht om aan de linkerkant van de weg te lopen?
 - a. Ja. Giovanni is verplicht om aan de linkerkant van de weg te lopen.
 - b. Nee, Giovanni is niet verplicht om aan de linkerkant van de weg te lopen.
 - c. Ja, als het echt druk is, dan is Giovanni verplicht om aan de linkerkant van de weg te lopen.

7. Mirugia gaat met de grote bus naar school. De bus stopt bij een bushalte om de kinderen uit te laten stappen. Mirugia stapt ook uit de bus en wacht tot dat de grote bus weg rijdt om over te steken. Is dit verstandig ja of nee? _____

8. Mag een moeder met een kinderwagen op de rijweg lopen?
- Ja, dat mag.
 - Nee, dat mag niet.

Het is zondagmiddag 3 uur. Bart gaat bij zijn vriend Kendrick spelen. Hij mag van zijn moeder met de fiets.

Bart controleert eerst of alles aan zijn fiets goed werkt.



9. Eén van de onderdelen van een fiets is een bel, die hoorbaar moet zijn op een afstand van.....meter.

Bart geeft zijn moeder een kus, stapt op zijn fiets en rijdt weg.

10. Waar moet Bart rijden?
- Op de rijweg.
 - Op het trottoir.

Bart rijdt rustig naar het huis van zijn vriendje. Hij nadert het verkeerslicht en ziet dat het licht op rood springt.

11. Wat moet Bart doen?
- Stoppen.
 - Vlug doorrijden.

12. Als je goed kijkt hoe de wegen bij elkaar komen, dan zijn er vier mogelijkheden:
- Rotonde, kruising, halve kruising en splitsing.
 - Rotonde, kruising, T-kruising, halve kruising.
 - Rotonde, kruising, volledige kruising en splitsing

13. Bart geeft met zijn rechterhand aan dat hij naar rechts wil.
Dit noemen we:
- De actieve taal van de weg.
 - De passieve taal van de weg.

14. Bart nadert een splitsing en ziet dit bord.



Wat moet hij doen?


- a. Hij mag doorrijden want hij mag het eerst.
- b. Hij moet iedereen voor laten gaan.

15. Bart rijdt door en is bijna bij het huis van zijn vriendje Kendrick.
Hij wil de straat inrijden en ziet dit bord.



Mag Bart deze straat inrijden? Vul in ja of nee.

16. Welk bord staat aan het einde van deze straat?
Vul in: bord 1, bord 2 of bord 3



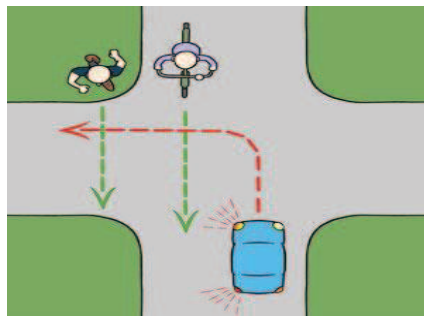
Bord no: _____

17. Hoeveel groepen borden kennen wij in het verkeer?

- a. Drie groepen borden.
- b. Vijf groepen borden.

18. Kendrick heeft geen fiets en wil graag met Bart mee op de fiets
Om een ijsje te gaan kopen. Mag dat?
- Ja, dat mag alleen als de fiets van Bart een bagagedrager heeft.
 - Ja, dat mag alleen als Bart toestemming heeft gekregen van de moeder van Kendrick.

19. Kijk goed naar de tekening. De fiets gaat rechtdoor en de auto gaat naar links.
Wie mag het eerst gaan?
- De auto mag het eerst gaan.
 - De fiets mag het eerst gaan.



20. Kijk goed naar de tekening. De auto gaat naar rechts en de brommer gaat naar links. Wie mag het eerst gaan?
- De auto mag het eerst.
 - De brommer gaat het eerst.

